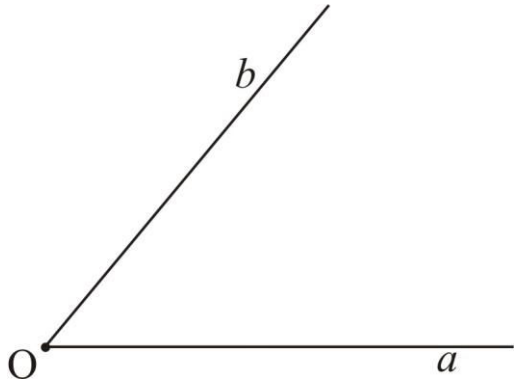
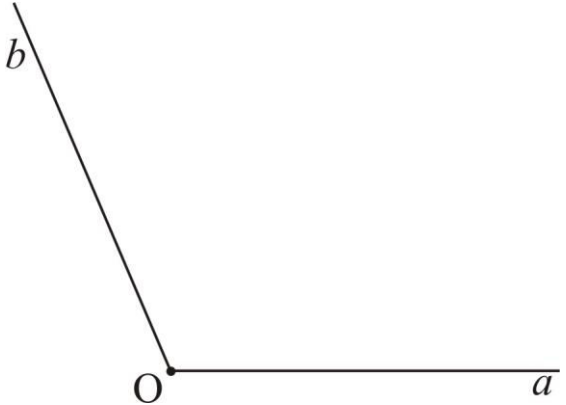
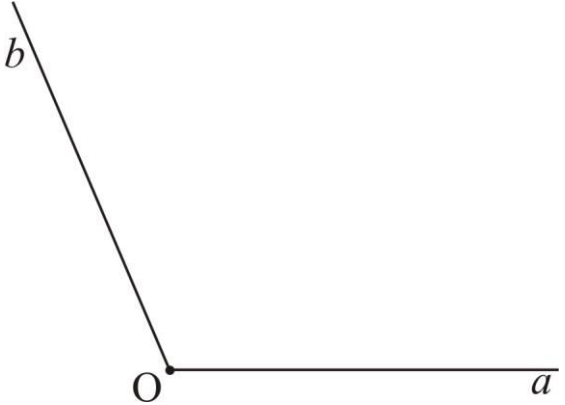
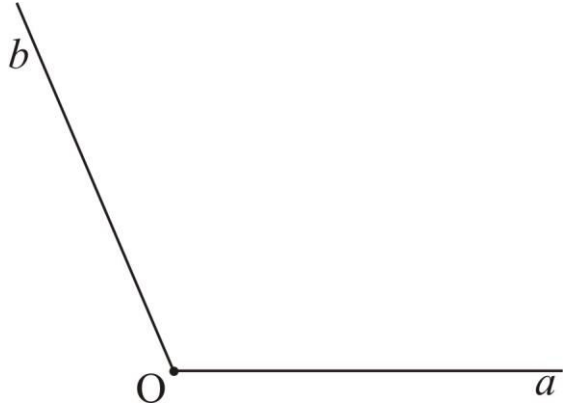
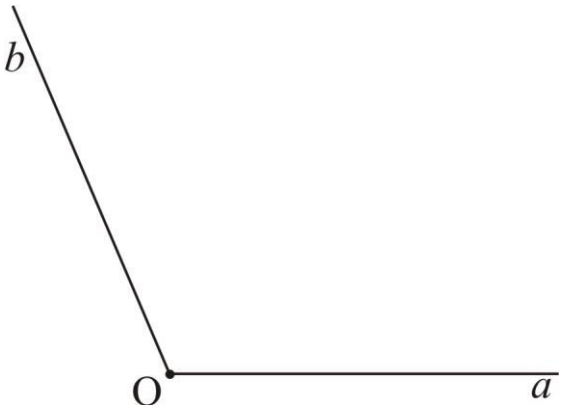
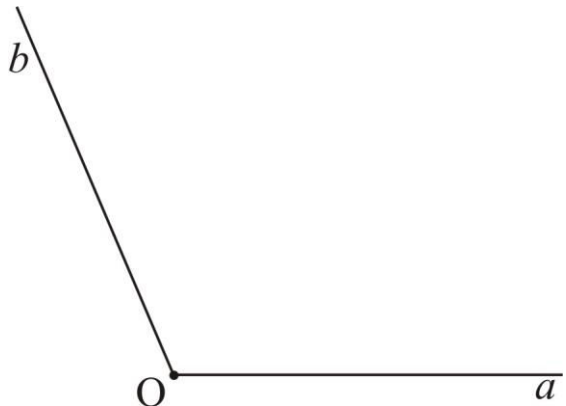


ОСНА СИМЕТРИЈА

НАСТАВНИК
Јадранка Михајловић

<p>1. Конструйши симетралу датог угла.</p> 	<p>2. Конструйши симетралу датог угла.</p> 
--	---

<p>3. Дати угао конструйцијом подели на четири једнака дела.</p> 	<p>4. Дати угао конструйцијом подели на осам једнаких делова.</p> 
---	---

<p>5. Конструйши и осенчи $\frac{3}{4}$ датог угла.</p> 	<p>6. Конструйши и осенчи $\frac{5}{8}$ датог угла.</p> 
--	---

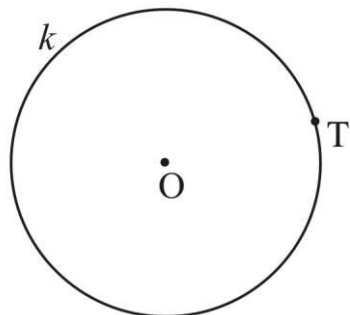
7. Конструйши угао чија је мера 90° .

8. Конструйши угао чија је мера 45° .

9. Конструйши угао чија је мера 135° .

10. Конструйши угао чија је мера $22^\circ 30'$.

11. Дата је кружница k и тачка T која припада тој кружници. Конструйши тангенту која додирује кружницу k у тачки T .



12. Дата је кружница k и тачка T која припада тој кружници. Конструйши тангенту која додирује кружницу k у тачки T .

