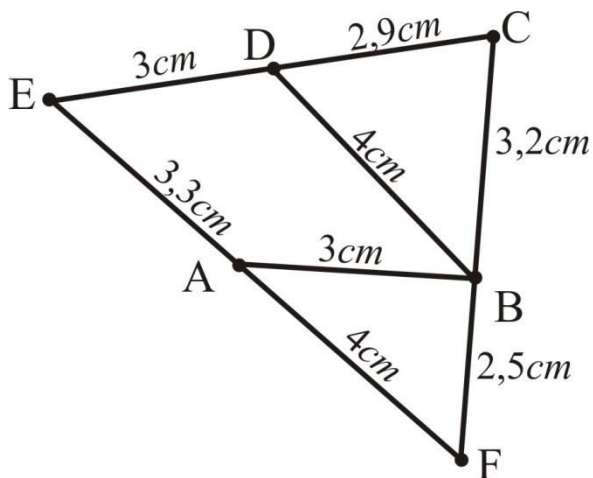


ОБИМ ЧЕТВОРОУГЛА

На основу слике оизрачунај обиме следећих фигура:



а) Израчунај обим троугла ABF.

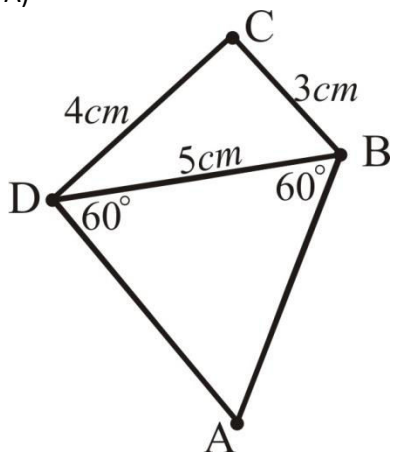
б) Израчунај обим троугла ECF.

в) Израчунај обим четвороугла ABDE.

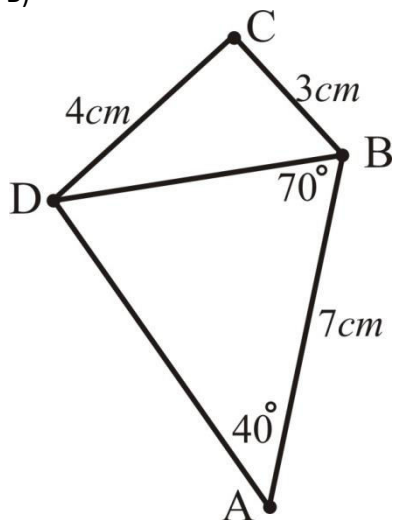
г) Израчунај обим четвороугла ABCE.

У следећим примерима израчунај обим четвороугла ABCD.

А)



Б)



В)

