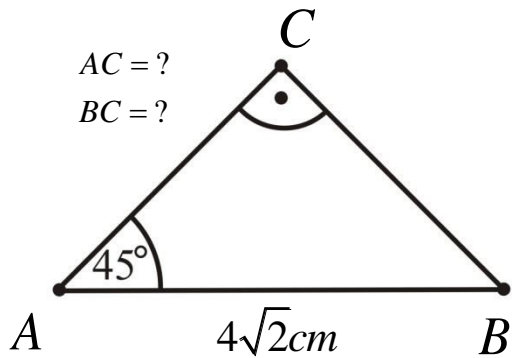
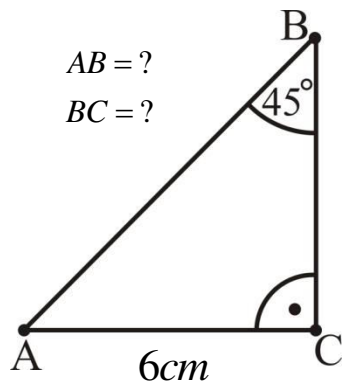


Час број 34. : Једнакокрако – правоугли троугао и троугао (30°, 60°, 90°)

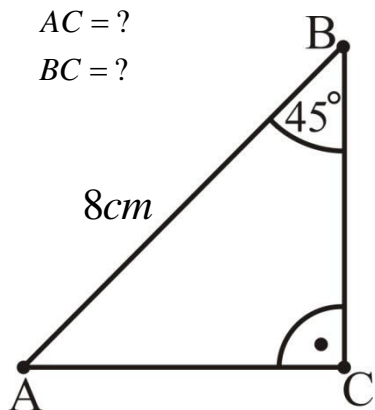
Задатак 1: Израчунај дужине непознатих страница датог троугла.



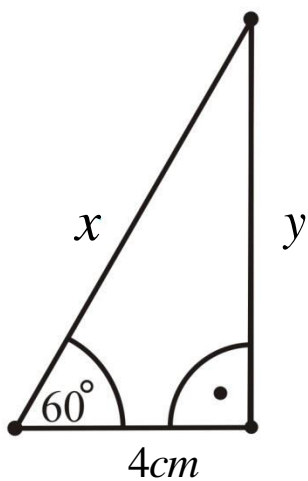
Задатак 2: Израчунај дужине непознатих страница датог троугла.

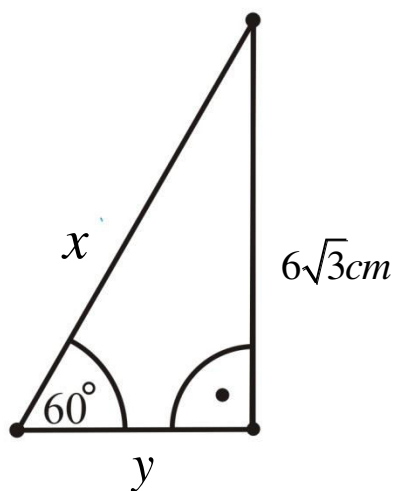
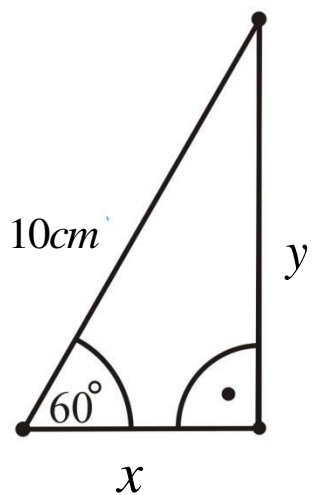


Задатак 3: Израчунај дужине непознатих страница датог троугла.



Задатак 4: Израчунај дужине непознатих страница x и y датог троугла.





Задатак 5: Израчунај дужине непознатих страница a и b датог троугла.

