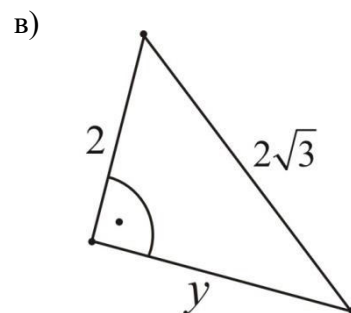
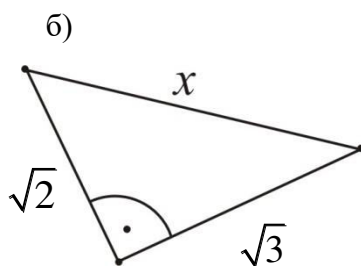
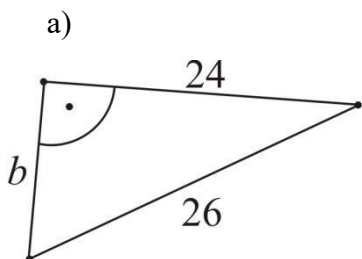


Час број 25: Питагорина теорема - вежба

ЗАДАТАК 1 : Израчунај непознату страну правоуглог троугла на слици . Дужине познатих страница дате су у сантиметрима.

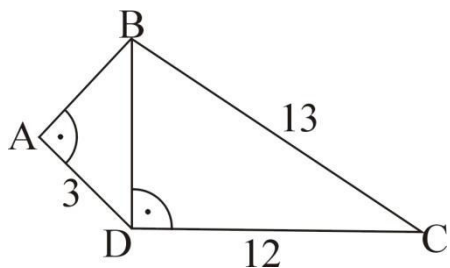


ЗАДАТАК 2 : Израчунај обим правоуглог троугла ако је позната његова површина и једна катета:

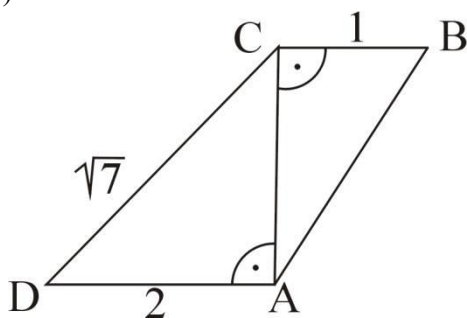
$$P = 24\text{cm}^2, \quad a = 6\text{cm};$$

ЗАДАТАК 3 : Израчунати дужину АВ на слици. Дужине познатих страница дате су у центиметрима.

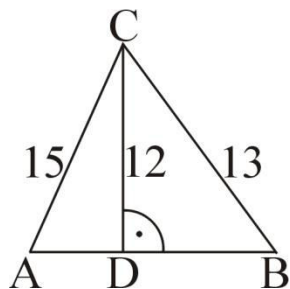
А)



Б)



В)



Домаћи задатак:

Збирка задатака:

32. страна:

5. задатак б)

9. 10..задатак.